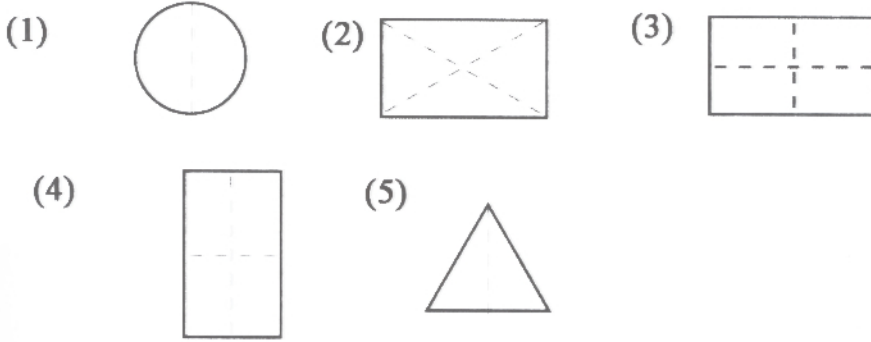
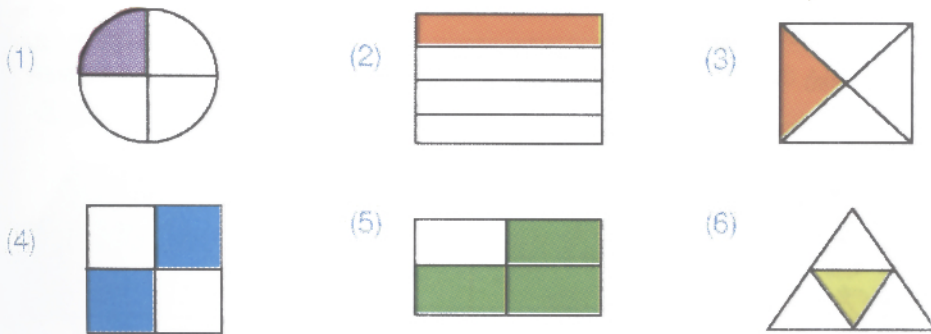




1 கீழே தரப்பட்டுள்ள படங்களில் $\frac{1}{2}$ ஐ நிறம் தீட்டவும்.



2 $\frac{1}{4}$ நிறந்தீட்டப்பட்டுள்ள படங்களின் இலக்கங்களை பயிற்சிப் புத்தகத்தில் எழுதுங்கள்.




3 பின்வரும் வடிவங்களைப் பிரதி செய்து ஒவ்வொன்றினதும் நிறந்தீட்டுங்கள்

$\frac{1}{4}$ ஐ

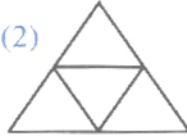
உதாரணம்:




(1)



(2)



(3)



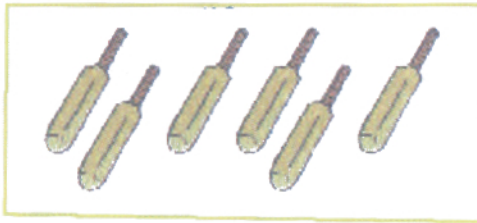
(4)



4

இவற்றுள் $\frac{1}{2}$

இல் எத்தனை மட்டைகள்?



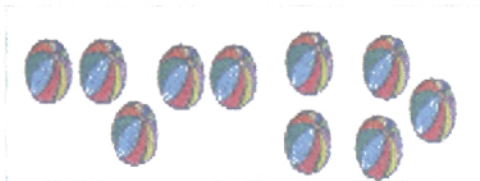
5

இவற்றுள் $\frac{1}{4}$ இல் எத்தனை கத்தரிக்கோல்கள்?



6

இவற்றுள் $\frac{1}{2}$ இல் எத்தனை பந்துகள்?



7

இவற்றுள் $\frac{1}{4}$ இல் எத்தனை பழங்கள்?

