



- 1 ஒரு கடையில் ஐந்து நாட்களில் விற்பனை செய்யப்பட்ட குடைகளின் எண்ணிக்கைகள் தொடர்பான தகவல்கள் கீழே அட்டவணையில் தரப்பட்டுள்ளன. அத்தகவல்களை நிரல் வரைபாகக் காட்டுங்கள்.

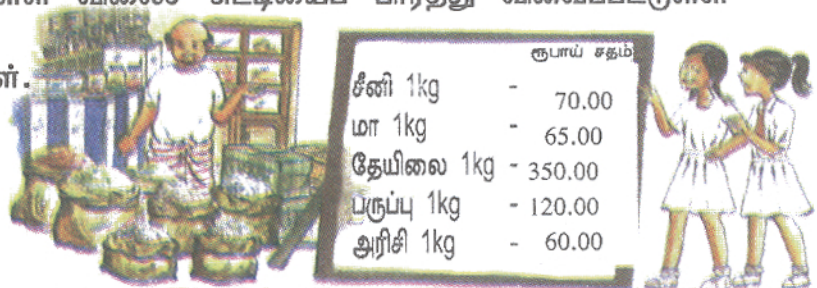
நாள்	குடைகளின் எண்ணிக்கை
திங்கள்	10
செவ்வாய்	5
புதன்	8
வியாழன்	12
வெள்ளி	15



வரைபில் இருந்து பெறக்கூடிய தகவல்கள் உள்ளடங்கிய 3 வாக்கியங்கள் எழுதுங்கள்.

- 2 ஒரு பென்சிலின் விலை 6 ரூபாய் 50 சதம். ஒரு பேனாவின் விலை 8 ரூபாய் 50 சதம். இரண்டினதும் விலை எவ்வளவு?

- 3 இங்கு தரப்பட்டுள்ள விலைச் சுட்டியைப் பார்த்து வினவப்பட்டுள்ள வினாக்களுக்கு விடையளியுங்கள்.



(1) அம்மா 1 kg சீனியும் 1 kg மாவும் வாங்கினார். அவர் வியாபாரிக்கு கொடுக்க வேண்டிய பணம் எவ்வளவு?

(2) லகிரு, 1 kg பருப்பும் 1 kg தேயிலையும் 4 kg அரிசியும் வாங்கினான். அவன் வியாபாரிக்குக் கொடுக்க வேண்டிய பணம் எவ்வளவு?

4 பிரதி செய்து ஒவ்வோர் எண்குறியையும் பொருத்தமான எண் பெயருடன் இணையுங்கள்.

II  
V  
IV  
VII  
IX  
X

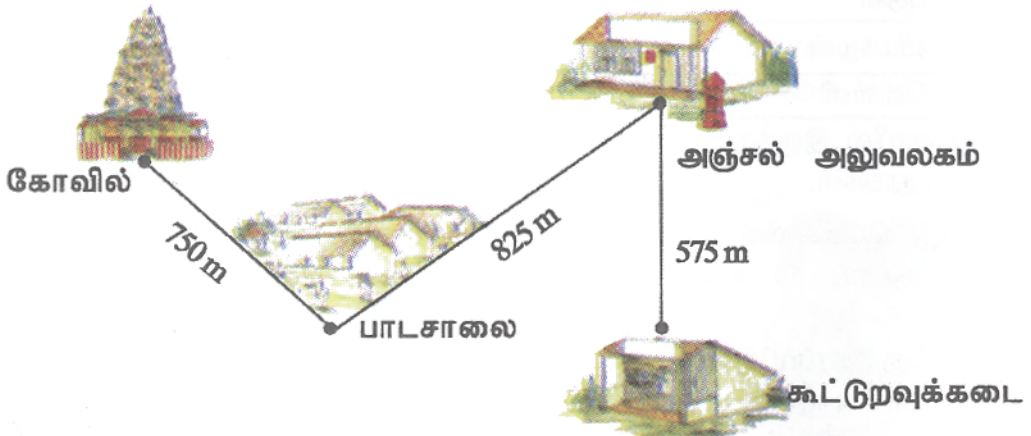
பத்து  
ஒன்பது  
ஏழு  
ஐந்து  
இரண்டு  
நான்கு



5 உரோமன் எண்குறிகளை இந்து அராபிய இலக்கத்தில் எழுதுங்கள்.

(1) I (2) II (3) IV (4) V (5) VII (6) X

6 பின்வரும் படத்தை பார்த்து, கீழே தரப்பட்டுள்ள வினாக்களுக்கு விடை எழுதுங்கள்.



- (1) பாடசாலையில் இருந்து கோவில் வரையிலான தூரம் எவ்வளவு?
- (2) பாடசாலையில் இருந்து அஞ்சல் அலுவலகம் வழியே கூட்டுறவுக் கடை வரையிலான தூரம் எவ்வளவு?
- (3) பாடசாலையில் இருந்து அஞ்சல் அலுவலகம் வரையிலான தூரத்திற்கும், கூட்டுறவுக் கடையிலிருந்து அஞ்சல் அலுவலகம் வரையிலான தூரத்திற்கும் இடையிலான வித்தியாசம் எவ்வளவு?

7 கூட்டுங்கள்.

(1)	(2)
kg g	kg g
7 400	2 500
+ 5 950	+ 3 600
=====	=====

8 கழியுங்கள்.

kg g	kg g
20 600	30 850
- 10 800	- 16 900
=====	=====



9 வாக்கியங்களாக எழுதி விடையளியுங்கள்.

(1) ஒரு பாத்திரத்தில் 4 l 650 ml பழச்சாறு உள்ளது. இன்னுமொரு பாத்திரத்தில் 5 l 450 ml பழச்சாறு உள்ளது. இரண்டு பாத்திரங்களிலும் உள்ள பழச்சாறு எவ்வளவு?

(2) ஒரு வானியில் 7 l 450 ml நீர் இடப்படலாம். இப்போது அதில் 2 l 950 ml நீர் உள்ளது. அதனை நிரப்புவதற்கு இன்னும் எவ்வளவு நீர் தேவை?

10 பெருக்குங்கள்.

(1)	(2)	(3)	(4)
24	15	11	12
X 7	X 7	X 7	X 7
=====	=====	=====	=====

11 விடை காணுங்கள்.

- (1) எட்டின் குவியல்கள் 2 எவ்வளவு?
- (2) ஐந்து தடவைகள் 8 எவ்வளவு?
- (3) முப்பத்து இரண்டில் எத்தனை எட்டுக்கள் உள்ளன?
- (4) எத்தனை எட்டுக்கள் 48 ஆகும்?



12 பிரதி செய்து சரியான விடையை எழுதுங்கள்.

- |             |            |
|-------------|------------|
| (1) 2 X 8   | (5) 9 X 6  |
| (2) 6 X 10  | (6) 4 X 6  |
| (3) 5 X 8   | (7) 9 X 10 |
| (4) 10 X 10 | (8) 6 X 8  |

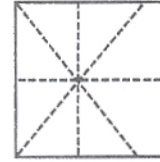
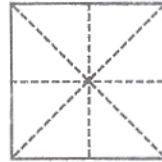
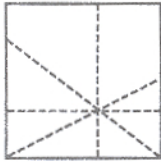


13 வகுங்கள்

- |                        |                         |                          |                          |
|------------------------|-------------------------|--------------------------|--------------------------|
| (1) $2 \overline{)30}$ | (2) $2 \overline{)26}$  | (3) $2 \overline{)140}$  | (4) $2 \overline{)425}$  |
| (5) $3 \overline{)96}$ | (6) $3 \overline{)87}$  | (7) $3 \overline{)347}$  | (8) $3 \overline{)412}$  |
| (9) $4 \overline{)44}$ | (10) $4 \overline{)96}$ | (11) $4 \overline{)500}$ | (12) $4 \overline{)835}$ |

14 ஆசிரியை 510 வர்ணச் சுண்ணக்கட்டிகளை 5 வகுப்புகளுக்கு சமமாகப் பகிர்ந்தளித்தார். ஒரு வகுப்பிற்குக் கிடைத்த வர்ணச்சுண்ணக் கட்டிகள் எத்தனை?

15 சமச்சீர்க் கோடுகள் சரியாக வரையப்பட்டுள்ள சதுரத்தை தெரிவு செய்து அதனை பயிற்சிப் புத்தகத்தில் வரையுங்கள்.



16 சமச்சீர்க் கோடுகள் சரியாக வரையப்பட்டுள்ள செவ்வகத்தைத் தெரிவு செய்து அதனை பயிற்சிப் புத்தகத்தில் வரையுங்கள்.

