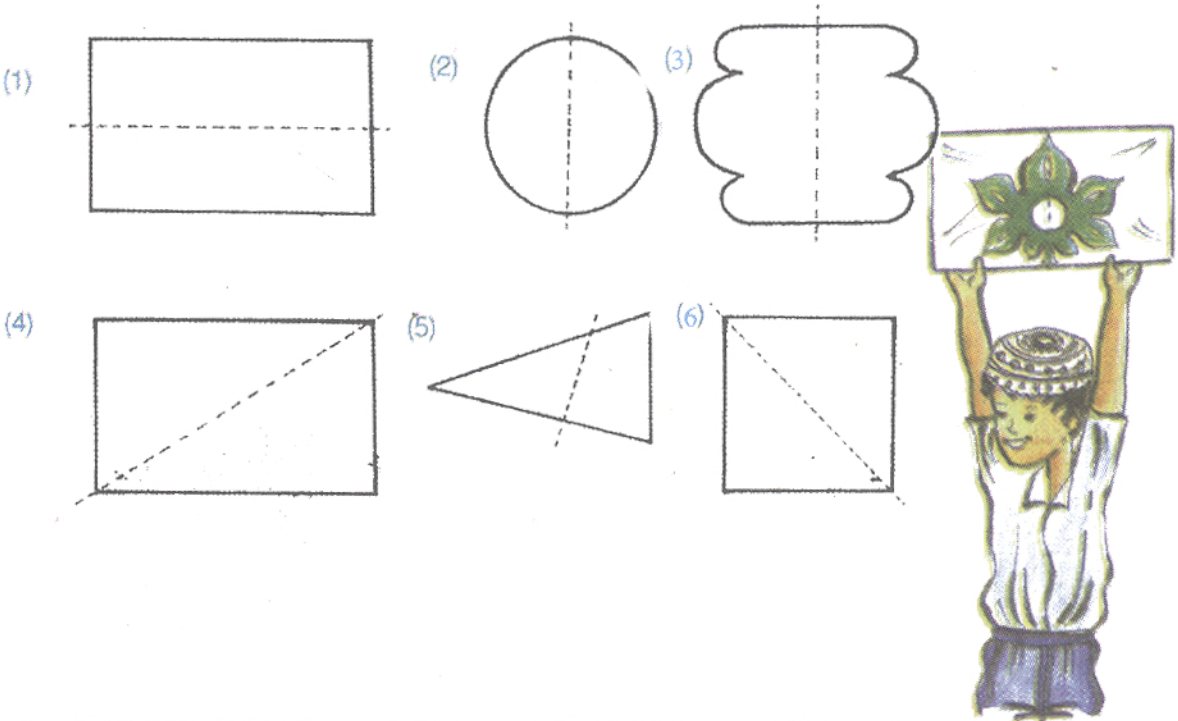


நாங்கள் கட்டும்
வீட்டின்
கிடைப்படம்
இது

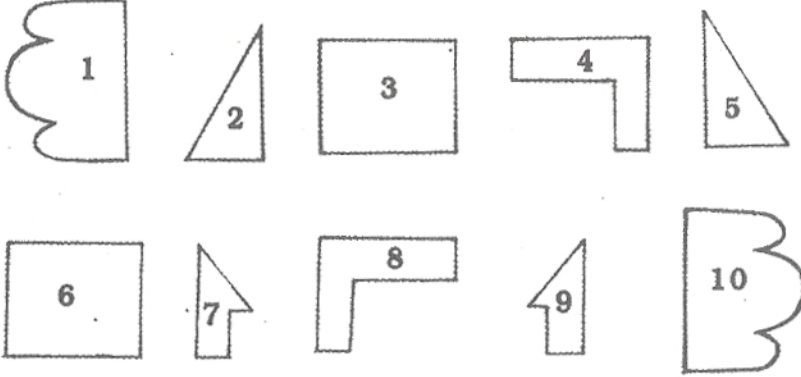
1 பின்வரும் ஒவ்வொரு படத்திலும் வரையப்பட்டுள்ள புள்ளிக்கோட்டைப் பாருங்கள். அக்கோட்டினால் சமச்சீராக பிரிக்கப்படும் படங்களைத் தெரிவு செய்யுங்கள். அவற்றின் இலக்கங்களைப் பயிற்சிப் புத்தகத்தில் எழுதுங்கள்.




2 சமச்சீரான படத்தை ஆக்கக்கூடிய படப்பகுதிகளைப் தெரிவு செய்து அவற்றின் இலக்கங்களை எழுதுங்கள்.

உதாரணம்:

1, 10



3 இப்படங்களைப் பிரதி செய்யுங்கள். ஒவ்வொரு படத்தையும் சமச்சீராகப் பிரிக்கக்கூடிய இரண்டு கோடுகள் வீதம் அவற்றில் வரையுங்கள்.



4 பிரதி செய்து அடுத்ததாக வர வேண்டிய படத்தை வரையுங்கள்.

உதாரணம்:

