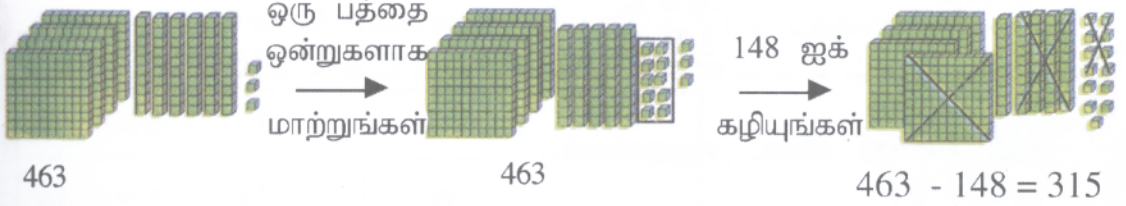




எண்களைக் கழித்தல் - முதலாம் படிமுறை

உதாரணம்: 463 இல் இருந்து 148 ஐக் கழியுங்கள்



$$\begin{array}{r}
 463 \\
 - 148 \\
 \hline
 315
 \end{array}$$


1 விடை எழுதுங்கள்.

(1)	(2)	(3)	(4)	(5)
474	897	533	650	916
- 235	- 629	- 214	- 338	- 507
=====	=====	=====	=====	=====

முனிலக்க ஂண்களைக் கழித்தல்

வாரம்
3

2 சிவப்பு நிறப் படிவத்தில் உள்ள ஏதேனுமார் ஂண்ணின் கீழே நீல நிற படிவத்தில் உள்ள ஏதேனுமார் ஂண்ணை எழுதிக் கழியுங்கள்.



ஂண்களைக் கழித்தல் - இரண்டாம் படிமுறை

உதாரணம்: 569 இல் இருந்து 387 ஐக் கழிக்கும் விதத்தைப் பாருங்கள்

ஒரு நூறை பத்துக்களாக மாற்றுங்கள்

387 ஐக் கழியுங்கள்

569 - 387 = 182

$$\begin{array}{r}
 569 \\
 - 387 \\
 \hline
 182
 \end{array}$$

3 பிரதி செய்து விடை எழுதுங்கள்.

(1)	(2)	(3)	(4)	(5)
549	959	817	706	605
- 287	- 479	- 354	- 643	- 235
=====	=====	=====	=====	=====



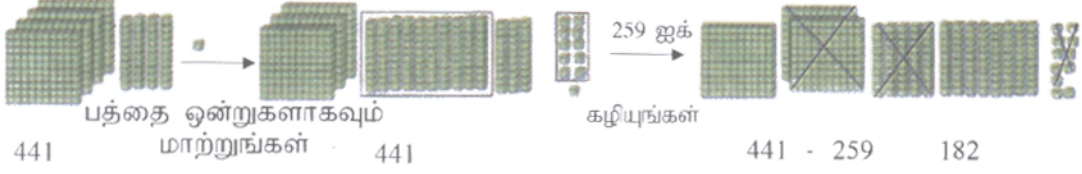
முவில்லக்க எண்களைக் கழித்தல்

எண்களைக் கழித்தல் - முன்றாம் படிமுறை

வாரம்
3









உதாரணம்: 441 இல் இருந்து 259 ஐக் கழியுங்கள்.

ஒரு நூறை பத்துக்களாகவும்



$$\begin{array}{r} 441 \\ - 259 \\ \hline 182 \end{array}$$

4 பகிர்ந்த பின்னர் ஒவ்வொரு போத்தலில் இருந்தும் எத்தனை இனிப்பு வீதம் குறைந்துள்ளன எனக் கண்டு எழுதுங்கள்.

பகிர்வதற்கு முன் 	 908	 597	 516
பகிர்ந்த பின் 	 434	 289	 307

5 நான்கு மாதங்களுள் கடையொன்றில் விற்கப்பட்ட புத்தகங்களின் எண்ணிக்கைகள் கீழே காட்டப்பட்டுள்ளன.

டிசெம்பர் - 148	ஜனவரி - 403
பெப்ரவரி - 341	மார்ச் - 280



அட்டவணைக்கேற்ப பின்வரும் வினாக்களுக்குரிய விடையை பயிற்சி புத்தகத்தில் எழுதுங்கள்.

- மார்ச் மாதத்தில் டிசெம்பர் மாதத்தை விட எத்தனை புத்தகங்கள் கூடுதலாக விற்கப்பட்டன?
- பெப்ரவரியில் மார்ச்சை விட எத்தனை புத்தகங்கள் கூடுதலாக விற்கப்பட்டன?
- ஜனவரியில் மார்ச்சை விட எத்தனை புத்தகங்கள் கூடுதலாக விற்கப்பட்டன?
- கூடுதலாக புத்தகங்கள் விற்கப்பட்ட மாதத்தின் எண்ணிக்கைக்கும் குறைவாக புத்தகங்கள் விற்கப்பட்ட மாதத்தின் எண்ணிக்கைக்கும் இடையே உள்ள வித்தியாசம் யாது?
- குறித்த இரு மாதங்களில் விற்கப்பட்ட புத்தகங்களின் எண்ணிக்கையின் வித்தியாசம் 61 ஆகும். அம்மாதங்கள் யாவை?

மூவிலக்க எண்களைக் கழித்தல்

வாரம்
3

6 வசனங்கள் எழுதி விடை அளியுங்கள்.



உதாரணம்: வியாபாரி ஒருவர் 490 மாம்பழங்கள் இருந்த ஒரு குவியலில் இருந்து 278 மாம்பழங்களை விற்றார். விற்பதற்கு இன்னும் எத்தனை மாம்பழங்கள் எஞ்சியுள்ளன?

$$\begin{array}{r} \text{வியாபாரியிடம் இருந்த மாம்பழங்கள்} = 490 \\ \text{விற்கப்பட்ட மாம்பழங்கள்} = 278 \\ \hline \text{எஞ்சிய மாம்பழங்கள்} = 212 \end{array}$$

(1) மண்டபமொன்றில் காலையில் நாடகமொன்றைப் பார்ப்பதற்கு 455 பேரும் மாலையில் 684 பேரும் வந்தனர். காலையை விட மாலையில் எத்தனை பேர் கூடுதலாக வந்தனர்?
(2) பெட்டியொன்றில் 456 சவர்க்கார்க்கட்டிகளை அடுக்க முடியும். அதில் 247 சவர்க்கார்க்கட்டிகள் அடுக்கப்பட்டுள்ளன. பெட்டியில் முழுமையாக அடுக்குவதற்கு இன்னும் எத்தனை சவர்க்கார்க்கட்டிகள் தேவை?

7 புதிரைப் பிரதி செய்து நிரப்புங்கள்

A	8	B
		0
C	D	
5		



குறுக்காக

- (1) A : 559 இருந்து 270 ஐக் கழிக்க =
(2) C : 847 இருந்து 293 ஐக் கழிக்க =

கீழே

- (3) A : 784 இருந்து - 579 ஐக் கழிக்க =
(4) B : 991 இருந்து - 87 ஐக் கழிக்க =
(5) D : 462 இருந்து - 407 ஐக் கழிக்க =