

# நேரத்தை இனங் காண்போம்


நிகழ்ச்சிக்குப் பொருத்தமான வாக்கியத்தை இணையுங்கள்.



காலையில் சூரியன் உதிக்கும்.



பகலில் துணி கழுவுவோம்.



இரவில் சந்திரன் தோன்றும்.



இரவில் பாடம் படிப்போம்.

பொருத்தமான உருவங்களின் கீழ் கோடு வரையுங்கள்.

காலை நேரம்



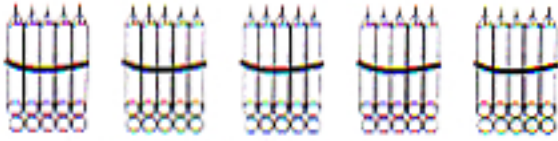
பகல் நேரம்



இரவு நேரம்



பத்துக்கள் 5 ஐம்பது

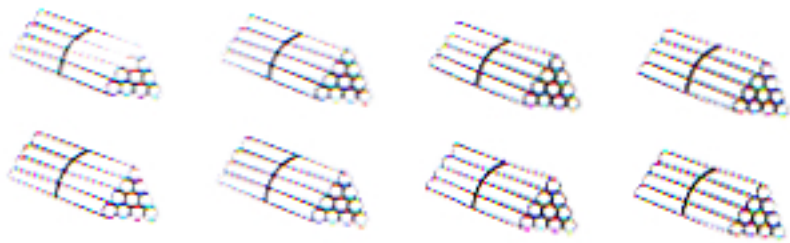


ஐம்பது

50

பூர்த்தி செய்யுங்கள்.

	பத்துக்கள்	ஒன்றுகள்	எண்
	5	1	...
	...	...	54
	...	...	...
	...	...	...
	...	...	...
	...	...	...
	...	...	...
	...	...	...
	...	...	...



பத்துக்கள் 8 என்பது

எண்பது

80

பூர்த்தி செய்யுங்கள்.

	83
	-----
	-----
	-----
	-----

இவ்வெண்களைக் குறைந்ததில் இருந்து கூடியது வரை  
ஒழுங்கில் எழுதுங்கள்.

14,	13,	15	13,	14,	15
15,	17,	16	.....	.....	.....
29,	27,	28	.....	.....	.....
22,	20,	29	.....	.....	.....
34,	51,	47	.....	.....	.....
65,	85,	70	.....	.....	.....
88,	92,	76	.....	.....	.....
99,	77,	66	.....	.....	.....