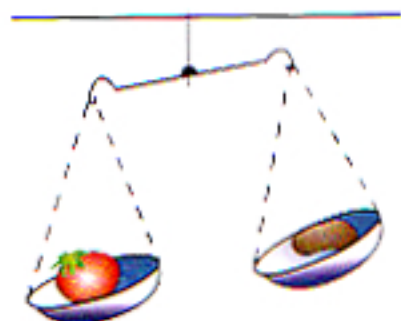
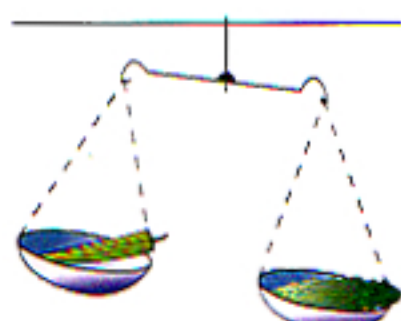



வெற்றிடங்களை நிரப்புகள்.




தக்காளியின் நிறை உருளைக்கிழங்கின்
நிறையை விட
(குறைந்தது / கூடியது / சமன்)



வேண்டிக்காயின் நிறை பாகற்காயின்
நிறையை விட
(குறைந்தது / கூடியது / சமன்)



மாம்பழத்தின் நிறை தோடம்பழத்தின்
நிறையை விட
(குறைந்தது / கூடியது / சமன்)



புடலங்காயின் நிறை வெள்ளரிக்காயின்
நிறையை விட
(குறைந்தது / கூடியது / சமன்)

இரண்டுகளாக எண்ணுவோம்

இரண்டு

நான்கு

ஆறு

.....

.....



தேங்காய்கள் எத்தனை ?




கொடிகள் எத்தனை ?













துவிச்சக்கர வண்டிகள் எத்தனை ?

சில்லுகள் எத்தனை ?

பூக்களை இரண்டு இரண்டாக எண்ணுவோம்
வெற்றிடங்களை நிரப்புகள்.



வெற்றிடங்களை நிரப்புங்கள்.

	முகங்களின் எண்ணிக்கை	கண்களின் எண்ணிக்கை
	1	2
	2


	5


	16



ஐந்துகளாக எண்ணுவோம்

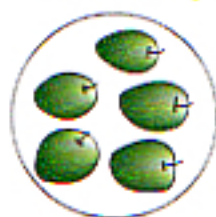
ஐந்து



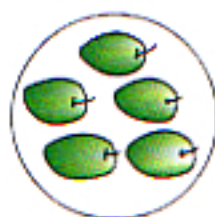
பத்து



பதினைந்து



.....




நெல்லிக்கனிகள் எத்தனை ?



ஐம்புப் பழங்கள் எத்தனை ?



திராட்சைப் பழங்கள் எத்தனை ?



எள்ளு உருண்டைகள் எத்தனை ?