

பத்துக்கள் 2
இருபது 20



பத்துக்கள் 2







ஒன்றுகள் 1

இருபத்தொன்று 21

இடைவெளி நிரப்புங்கள்.

	22	இருபத்திரண்டு


பூர்த்தி செய்யுங்கள்.

இலக்கங்களில் எழுதுங்கள்.

பத்து	10
பதின்மூன்று
பதினைந்து
பதினெட்டு
இருபது
இருபத்துநான்கு
இருபத்தாறு
இருபத்தேழு
இருபத்தொன்பது






இடைவெளி நிரப்புங்கள்.




பத்துக்கள் 3

முப்பது

30 முப்பது

	பத்துக்கள்	ஒன்றுகள்	எண்
	3	1	31
	3	4
	3



இடைவெளி நிரப்புங்கள்.



பத்துக்கள் 4 நாற்பது

40 நாற்பது

	பத்துக்கள்	ஒன்றுகள்	எண்
	4	2	42
	4	3
	4

நிறையை நிறுப்போம்

நிறை கூடிய பக்கத்தின் கீழ் கோடு வரையுங்கள்.

