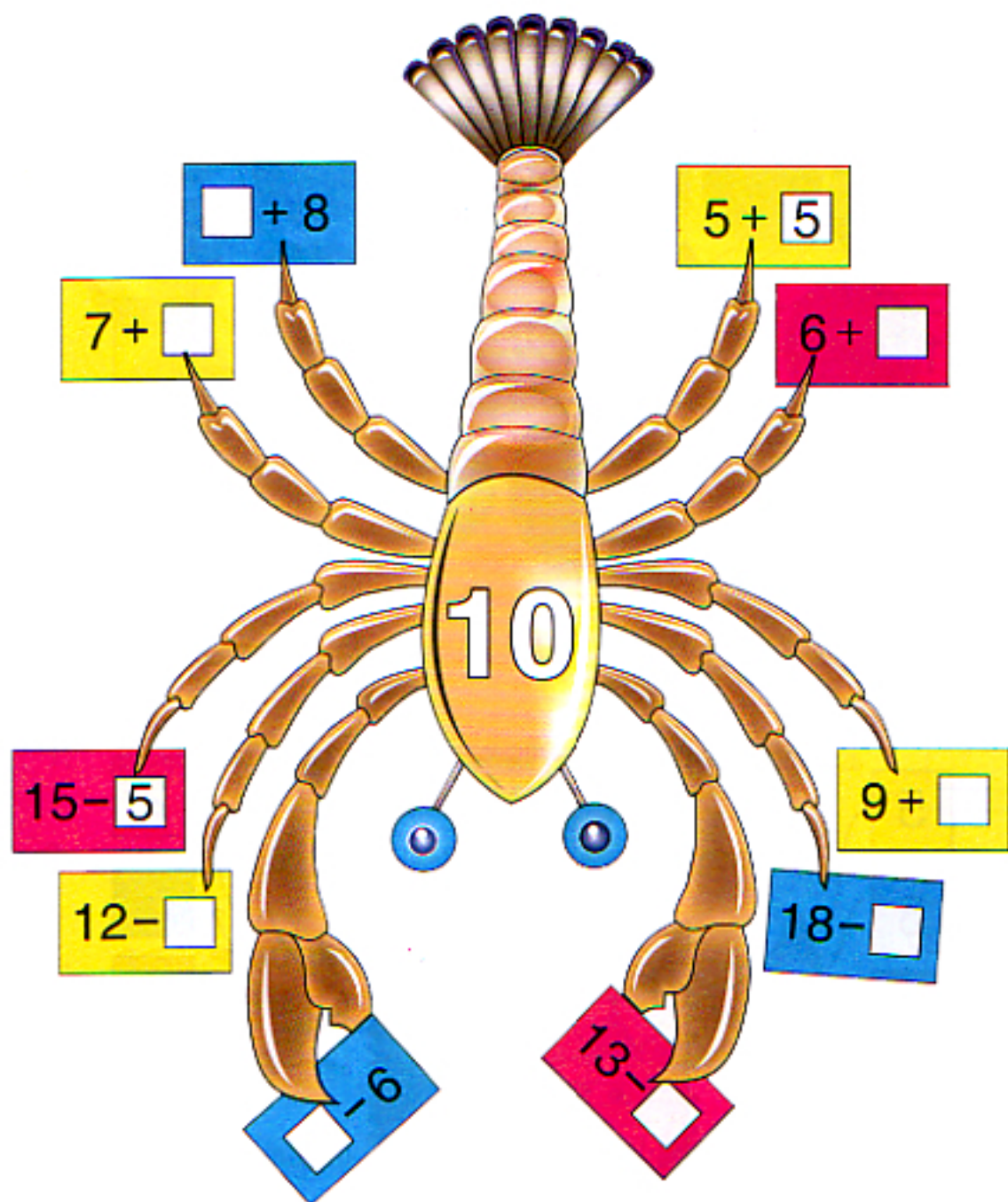
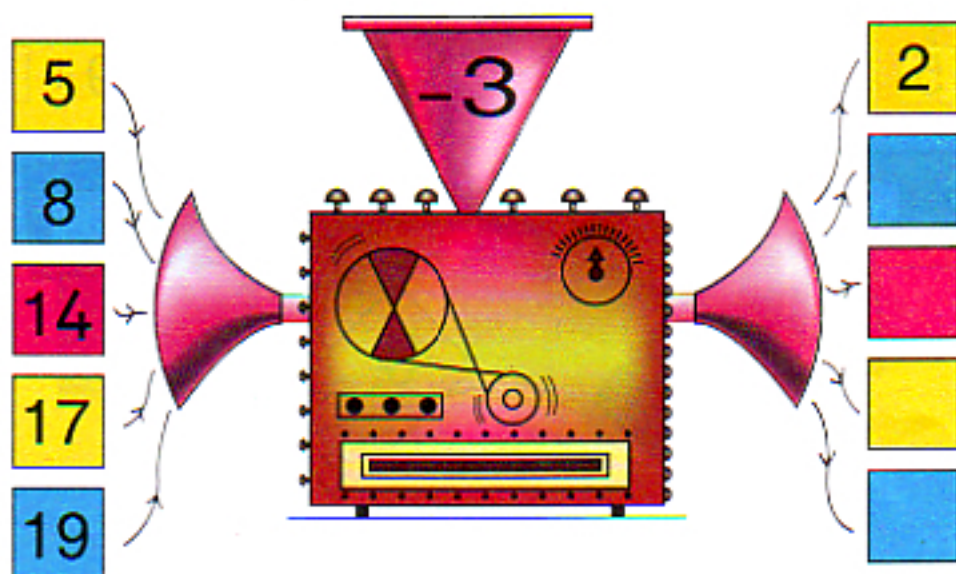
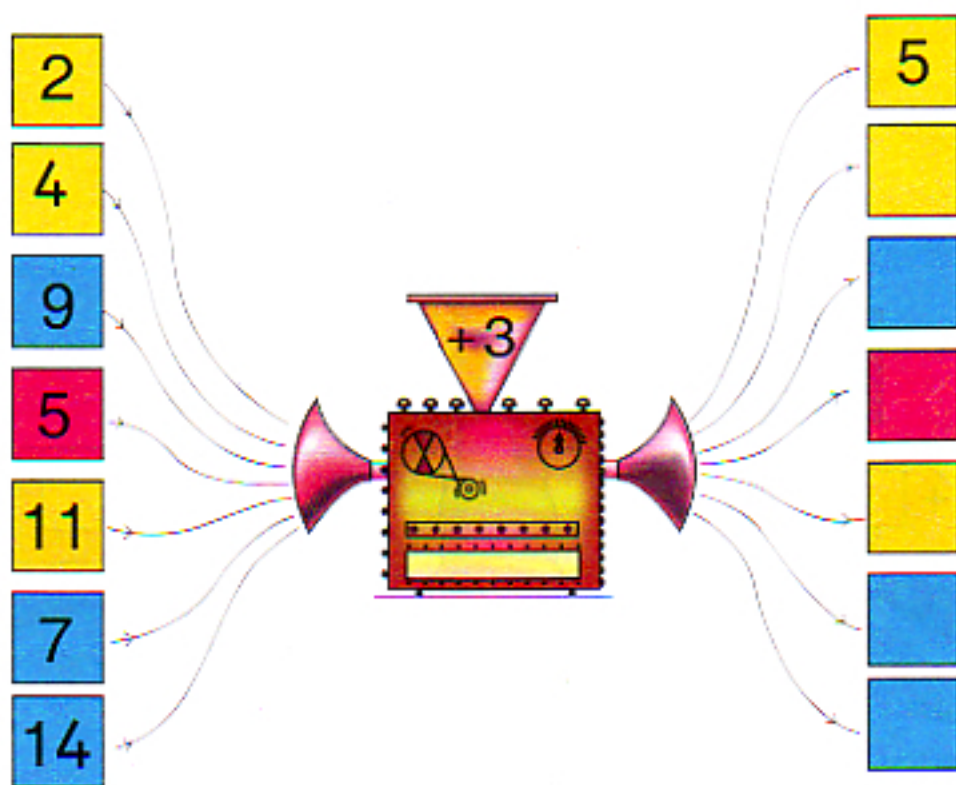


10 பத்து ஆக்குவோம்



வெற்றிடங்களை நிரப்புங்கள்.



நாணயங்களை இனங் காண்போம்






வெற்றிடங்களை நிரப்புங்கள்.

1. இருபத்தைந்து சத நாணயங்களின் எண்ணிக்கை
2. ஐம்பது சத நாணயங்களின் எண்ணிக்கை
3. ஒரு ரூபாய் நாணயங்களின் எண்ணிக்கை
4. இரண்டு ரூபாய் நாணயங்களின் எண்ணிக்கை
5. ஐந்து ரூபாய் நாணயங்களின் எண்ணிக்கை


தாளொன்றில் நாணயங்களை அச்சிடுங்கள்.

அவற்றை வெட்டி எடுங்கள்.

பொருளின் விலைக்குச் சமனான நாணயத்தைக் கூட்டினுள் ஒட்டுங்கள்.



ஒரு பழத்தின் விலை காட்டப்பட்டுள்ளது.



ரூபாய் 5




ரூபாய் 2



ரூபாய் 3



ரூபாய் 6



ரூபாய் 4

செலுத்த வேண்டிய விலையை வெற்றிடத்தில் எழுதுங்கள்.

1. ஒரு மாம்பழத்திற்கும் ஒரு வாழைப்பழத்திற்கும் ரூபாய்
2. ஒரு பப்பாசிப்பழத்திற்கும் ஒரு மாம்பழத்திற்கும் ரூபாய்
3. ஒரு இளநீருக்கும் ஒரு தோடம்பழத்திற்கும் ரூபாய்
4. ஒரு தோடம்பழத்திற்கும் ஒரு மாம்பழத்திற்கும் ரூபாய்