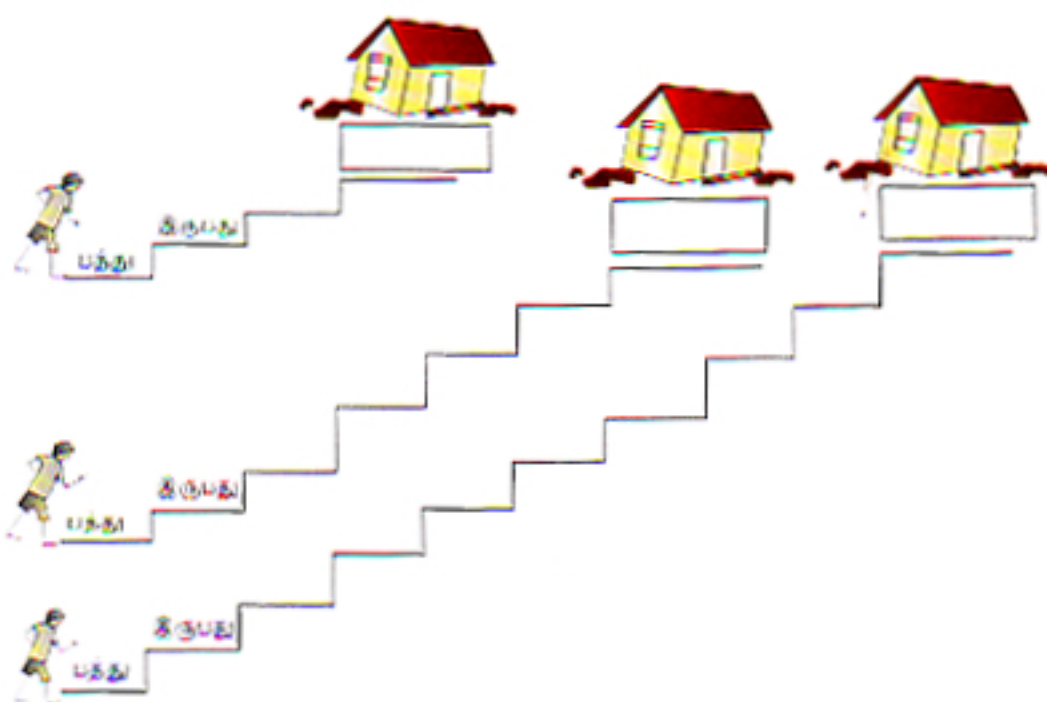
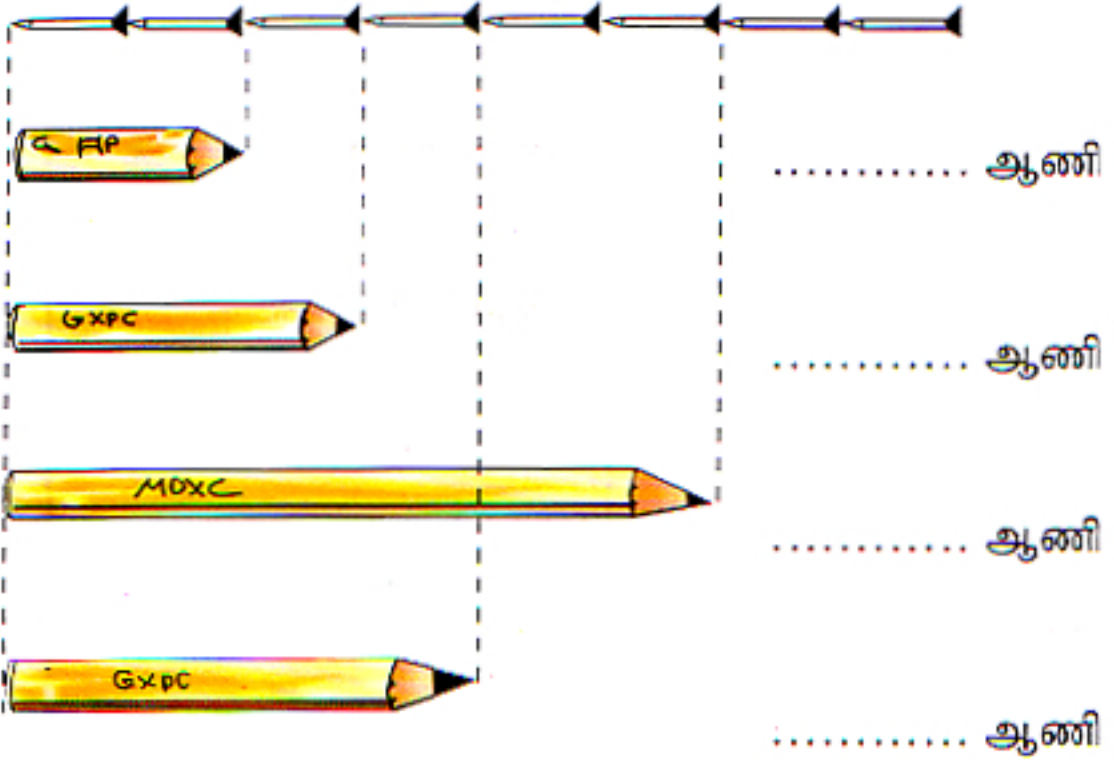


பத்துப் பத்தாக எண்ணி வெற்றிடங்களை நிரப்புக.





















ஆணிகளால் பென்சில்களின் நீளங்களைக் காணுங்கள்.



1. நீளங் கூடிய பென்சில் எத்தனை ஆணிகள் நீளமுடையது ?
2. நீளங் குறைந்த பென்சில் எத்தனை ஆணிகள் நீளமுடையது ?


நீளம் குறைந்ததில் இருந்து கூடியது வரை ஒழுங்கில்
1, 2, 3 என இலக்கம் இடுங்கள்.

	2		<input type="checkbox"/>
	3		<input type="checkbox"/>
	1		<input type="checkbox"/>
	<input type="checkbox"/>		<input type="checkbox"/>
	<input type="checkbox"/>		<input type="checkbox"/>
	<input type="checkbox"/>		<input type="checkbox"/>
	<input type="checkbox"/>		<input type="checkbox"/>
	<input type="checkbox"/>		<input type="checkbox"/>
	<input type="checkbox"/>		<input type="checkbox"/>

5 ஐந்து ஆக்குவோம்



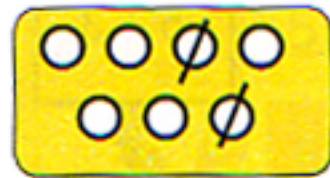
$$1 + 4 = 5$$



$$6 - 1 = 5$$




$$2 + \square = 5$$




$$7 - \square = 5$$



$$\square + 2 = 5$$



$$\square - \square = 5$$



8 எட்டு ஆக்குவோம்

