


# எண்ணுவோம்


கட்டத்தினுள் சரி அடையாளம் இருபது வரையுங்கள்



சரியடையாளம் (✓) இட்டு இருபது பழங்களை எண்ணுங்கள்.




கன்றுகளின் எண்ணிக்கை யாது ?



கன்றுகளின் எண்ணிக்கை .....

செங்கற்களின் எண்ணிக்கை யாது ?




செங்கற்களின் எண்ணிக்கை .....

சாடியில் உள்ள பூக்களின் எண்ணிக்கை யாது ?



பூக்களின் எண்ணிக்கை .....

மூன்று குலைகளிலும் எத்தனை பழங்கள் ?



மூன்று குலைகளிலும் உள்ள பழங்களின் எண்ணிக்கை .....

# பத்துப் பத்தாக எண்ணுங்கள்



பெட்டியில் பத்துப் பென்சில்கள்

பத்துப் பத்தாக எண்ணுங்கள். வெற்றிடங்களை நிரப்புகள்.



பத்து



இருபது



.....



நாற்பது



ஐம்பது



.....



எழுபது



.....



.....



.....


ஒரு பெட்டியில் பத்துப் பென்சில்கள்.  
பத்துப் பெட்டிகளில் எத்தனை  
பென்சில்கள் ? .....

பத்துப் பத்தாக எண்ணுங்கள்.

எத்தனை ?



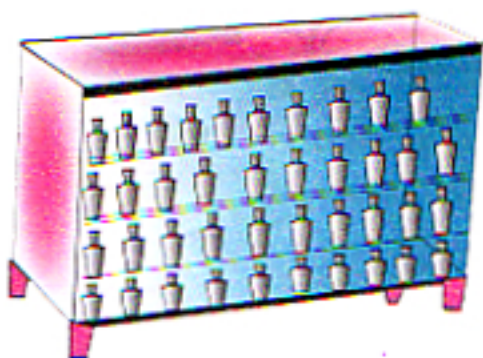
இருபது பூக்கள்



..... மருந்து வில்லைகள்



..... பந்துகள்



..... போத்தல்கள்