

கூட்டுவோம்

வட்டத்தினுள் இலக்கத்தை எழுதிக் கூட்டுங்கள்.



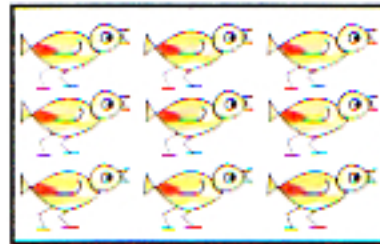
9

+

3

=

12




○

+

○

=

□



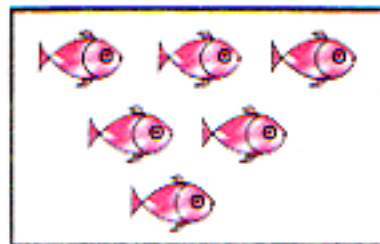
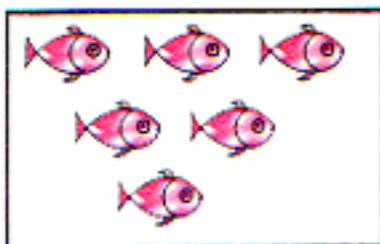
○

+

○

=

□



○


+

○


=

□


உருக்களை எண்ணி வெற்றிடங்களை நிரப்பிக் கூட்டுங்கள்.




5 + 7 = 12




+ =




+ =



+ =









+ =



+ =

வெற்றிடங்களை நிரப்புங்கள்.

	$13 - 7 = 6$
	$14 - 4 = \dots\dots$
	$11 - 5 = \dots\dots$
	$17 - 6 = \dots\dots$
	$18 - 9 = \dots\dots$
	$20 - 8 = \dots\dots$

நீரை அளப்போம்

கோப்பை ஒன்றினால் பாத்திரங்களில் நீர் நிரப்பப்பட்டுள்ளது. இரண்டு பாத்திரங்களிலும் கூடிய அளவு நீரைக் கொள்ளும் பாத்திரத்தின் கீழ் கோடு வரையுங்கள்.



கோப்பைகள் 6



கோப்பைகள் 8



கோப்பைகள் 15



கோப்பைகள் 12



கோப்பைகள் 16



கோப்பைகள் 18

குறைந்த அளவு நீரைக் கொள்ளும் பாத்திரத்தின் கீழ் கோடு வரையுங்கள்.



கோப்பைகள் 3



கோப்பைகள் 5



கோப்பைகள் 2



கோப்பைகள் 4



கோப்பைகள் 3



கோப்பைகள் 2



கோப்பைகள் 3



கோப்பைகள் 2