


பென்சில்கள் எத்தனை?
எண்ணுங்கள்.
அவற்றில் 10 ஐக்
கட்டுவோம்.

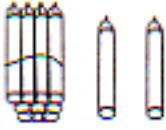


பத்துக்கள் 1

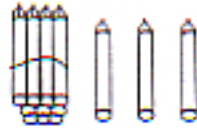


ஒன்றுகள் 1

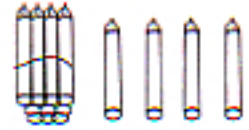
பதினொன்று 11



12



13

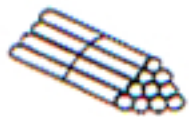


14


வெற்றிடங்களை நிரப்புவோம்.

	பத்துக்கள்	ஒன்றுகள்
	1	5
	-----	-----
	-----	-----
	-----	-----
	-----	-----

எத்தனை ?

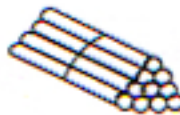


பத்துக்கள் 1



ஒன்றுகள் 2

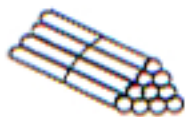
.....12.....




பத்துக்கள் 1

ஒன்றுகள் 0

.....10.....

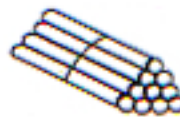


பத்துக்கள்



ஒன்றுகள்

.....

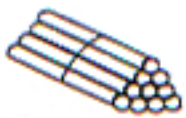


பத்துக்கள்




ஒன்றுகள்

.....

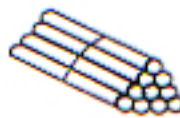


பத்துக்கள்



ஒன்றுகள்

.....

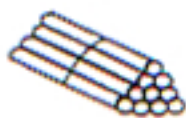


பத்துக்கள்




ஒன்றுகள்

.....

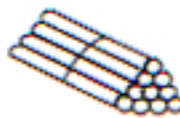


பத்துக்கள்

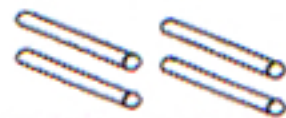


ஒன்றுகள்

.....



பத்துக்கள்



ஒன்றுகள்

.....

நீளம் அளப்போம்

தீக்குச்சிகளால் நீளத்தைக் காணுங்கள்.




மீனின் நீளம் தீக்குச்சிகள்


நிறக்கட்டியின் நீளம் தீக்குச்சிகள்



சீப்பின் நீளம் தீக்குச்சிகள்



சப்பாத்தின் நீளம் தீக்குச்சிகள்



கத்தியின் நீளம் தீக்குச்சிகள்



கரண்டியின் நீளம் தீக்குச்சிகள்

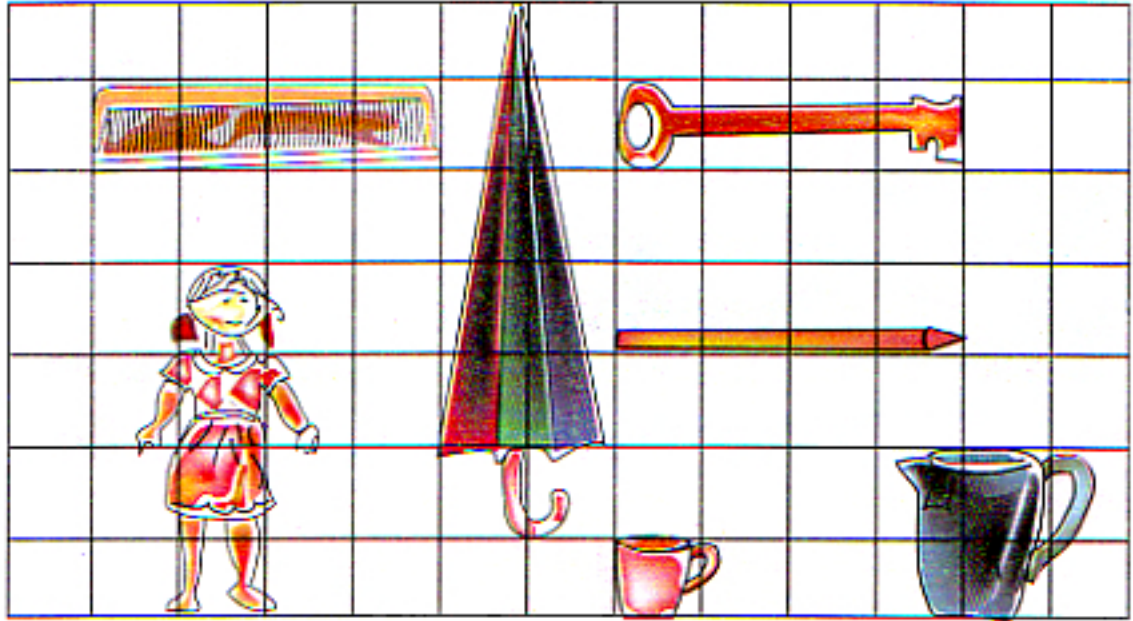


பென்சிலின் நீளம் தீக்குச்சிகள்

பற்றுாரிகையின் நீளம் தீக்குச்சிகள்

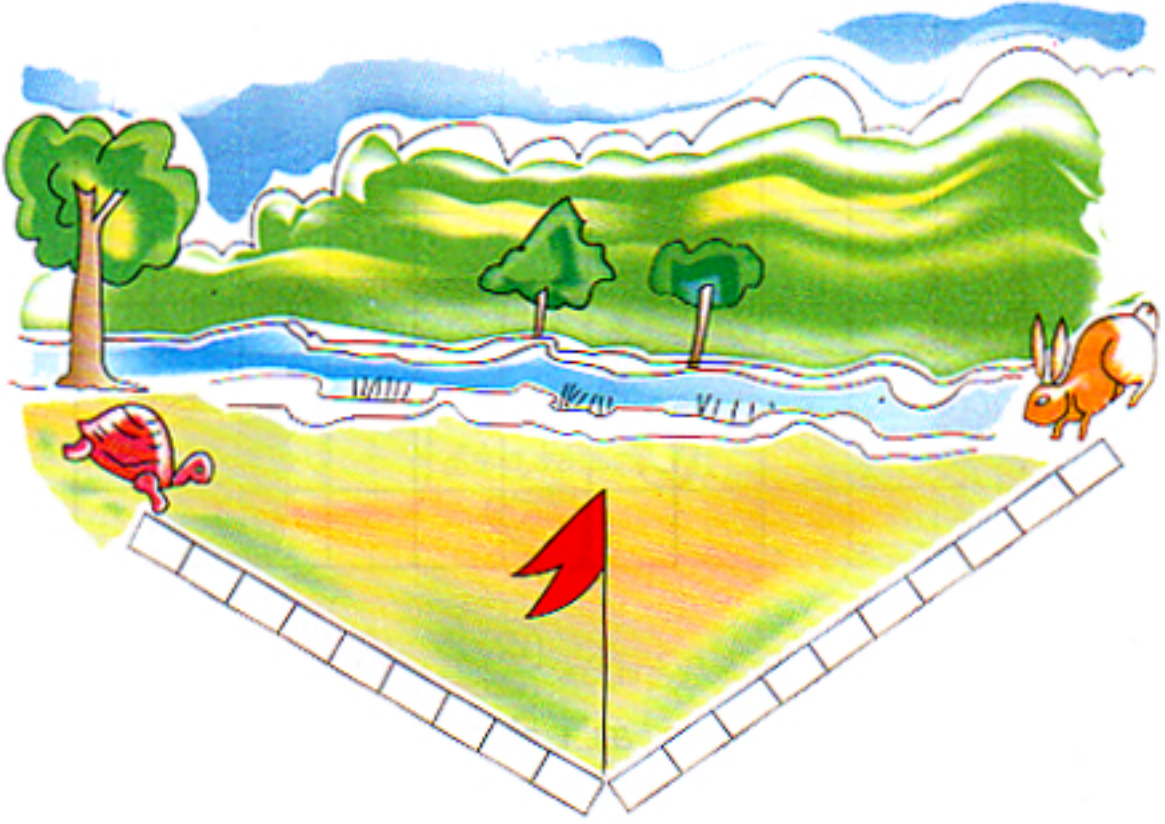


நீளத்தையும் உயரத்தையும் காண்போம்



1. சீப்பின் நீளம் எத்தனை கட்டங்கள்?
2. சாலியின் நீளம் எத்தனை கட்டங்கள்?
3. குவளையின் உயரம் எத்தனை கட்டங்கள்?
4. கோப்பையின் உயரம் எத்தனை கட்டங்கள்?
5. பொம்மையின் உயரம் எத்தனை கட்டங்கள்?
6. குடையின் உயரம் எத்தனை கட்டங்கள்?
7. பென்சிலின் நீளம் எத்தனை கட்டங்கள்?

கட்டங்களை எண்ணித் தூரத்தைக் காண்போம்.



1. கோடியில் இருந்து முயலுக்கு உள்ள தூரம் எத்தனை கட்டங்கள் ?
2. கோடியில் இருந்து ஆமைக்கு உள்ள தூரம் எத்தனை கட்டங்கள் ?
3. கோடியில் இருந்து கூடிய தூரத்தில் இருப்பது ஆமையா ? முயலா ?